



## Laboratório de Princípios de Comunicações

Período 2017.2

### Guia de Experimentos 1

Tema(s): Introdução ao GNU Radio. Séries de Fourier. Distorção.

Professor(es): Leocarlos B. S. Lima e Edmar C. Gurjão

---

## 1 Introdução

O presente guia descreve atividades experimentais a serem realizadas na disciplina Laboratório de Princípios de Comunicações do curso de graduação em Engenharia Elétrica da Universidade Federal de Campina Grande – UFCG.

Os experimentos propostos deverão ser realizados no Laboratório de Princípios de Comunicações – LPC, localizado na Central de Laboratórios da Unidade Acadêmica de Engenharia Elétrica da UFCG, empregando:

- Computador com software GNU Radio Companion – GRC (<http://gnuradio.org/>) instalado;
- Módulo USRP (do inglês *Universal Software Radio Peripheral*) para transmissão e recepção de sinais numa abordagem conhecida como Rádio Definido por Software – RDS.

Na parte inicial deste guia propõe-se um conjunto de atividades de preparação a serem desenvolvidas pelo aluno antes da aula em que serão realizadas as práticas experimentais. Sem a realização prévia destas atividades pelo aluno, as práticas experimentais propostas ficarão comprometidas, tanto no tempo necessário para sua realização quanto no aproveitamento pelo aluno. Por esta razão, o aluno só poderá realizar os experimentos em laboratório se apresentar ao professor no início da aula os resultados da preparação proposta.

A aula terá duração de duas horas e o aluno deverá entregar ao término da aula a Folha de Respostas (parte final do guia) às questões ali propostas referentes aos experimentos realizados.

## 2 Objetivos

As práticas experimentais aqui propostas têm por objetivos:

- Introduzir ao GNU Radio Companion como ferramenta para realização de experimentos em comunicações;
- Simular e analisar séries de Fourier de sinais comuns;
- Caracterizar distorções de canal.

## 3 Preparação

### 3.1 Estudo

Leia o tutorial introdutório ao uso do GRC, disponível na página [http://gnuradio.org/redmine/projects/gnuradio/wiki/Guided\\_Tutorial\\_GRC/](http://gnuradio.org/redmine/projects/gnuradio/wiki/Guided_Tutorial_GRC/), a partir da seção 2.2.

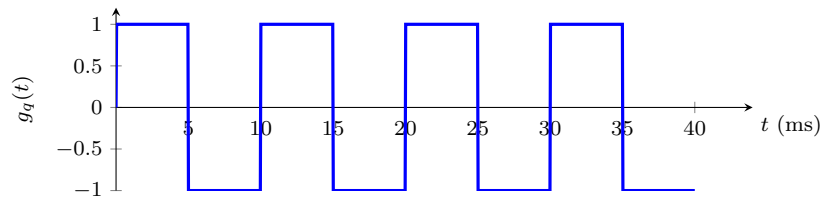
Se possível, instale o GRC em seu computador pessoal (veja instruções de instalação na página <http://gnuradio.org/redmine/projects/gnuradio/wiki/InstallingGR>) e experimente os exercícios sugeridos no tutorial.

Revise e pesquise sobre os seguintes questionamentos teóricos:

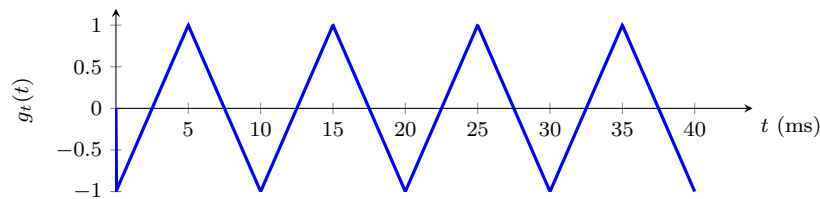
- O que caracteriza uma distorção linear?
- O que caracteriza uma distorção não linear?

### 3.2 Problemas

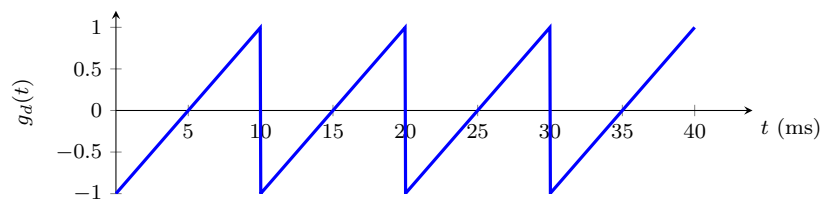
1. Determine as séries de Fourier trigonométricas das formas de onda periódicas ilustradas na Figura 1.



(a) Onda quadrada  $g_q(t)$  de frequência  $f = 100$  Hz e amplitude  $A = 1$ .



(b) Onda triangular  $g_t(t)$  de frequência  $f = 100$  Hz e amplitude  $A = 1$ .



(c) Onda dente de serra  $g_d(t)$  de frequência  $f = 100$  Hz e amplitude  $A = 1$ .

Figura 1: Formas de onda usuais.

2. Exemplifique uma distorção na amplitude da onda quadrada da Figura 1.
3. Exemplifique uma distorção na fase da onda quadrada da Figura 1.

## 4 Experimentos

A seguir são descritas práticas experimentais a serem realizadas pelo aluno.

## 4.1 Experimento 1 – GNU Radio Companion

O objetivo deste experimento é familiarizar o aluno com o GRC e com seus recursos empregados nas práticas experimentais deste laboratório.

1. Antes de iniciar as atividades com o GRC, crie uma pasta para guardar os arquivos de seus experimentos e copie nela os modelos de diagrama (arquivos .GRC) disponibilizados pelo professor para esta aula. **Não deixe de realizar isso, pois o computador deste laboratório não é para seu uso pessoal e os arquivos que você utilizará serão alterados por você durante o experimento;**
2. Execute o software GRC (no Ubuntu, tecla **Meta** + **A**, em seguida digite **grc** e tecla **Enter**). A janela do GRC deverá aparecer, conforme ilustrado na Figura 2.

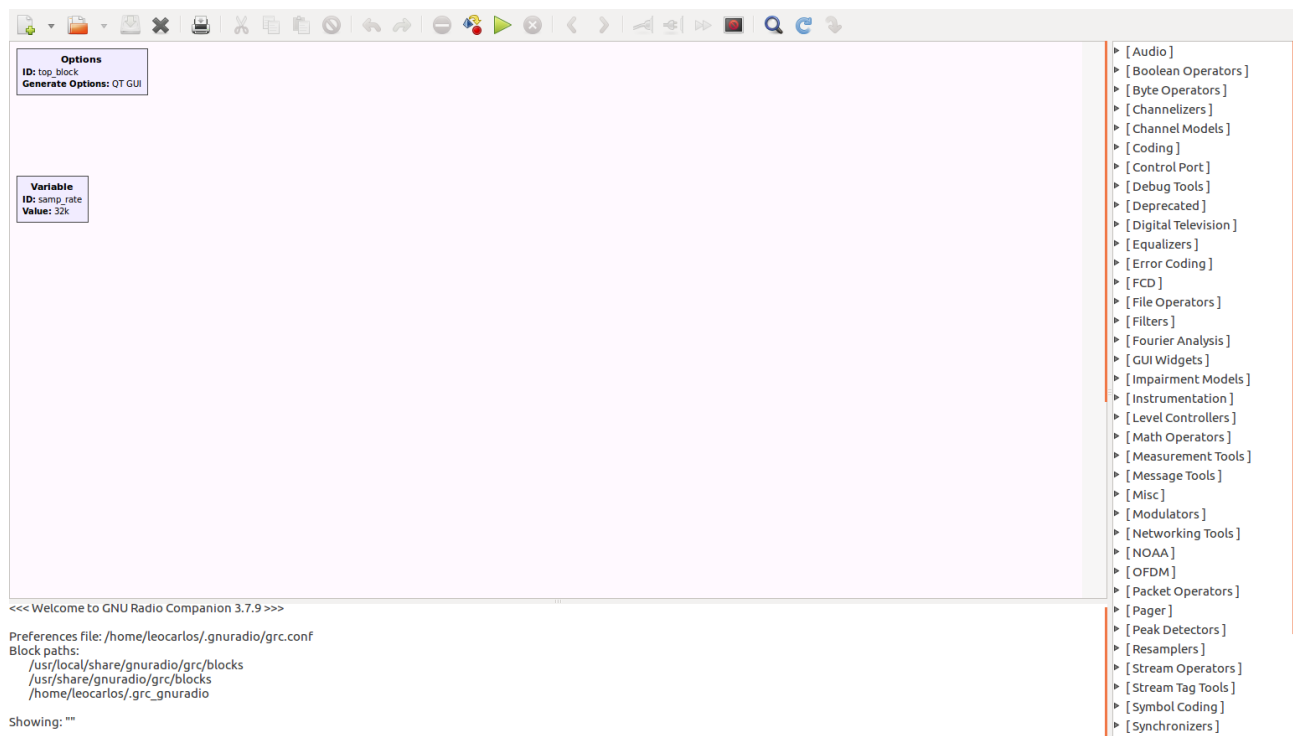


Figura 2: Janela do GNU Radio Companion após aberto.

Essa janela possui quatro partes:

- (a) **Barra de ferramentas**, parte superior, com botões que permitem desde a abertura de arquivos, até a execução de diagramas;
  - (b) **Espaço de trabalho**, parte central, na qual os diagramas são “desenhados”;
  - (c) **Terminal**, parte inferior, na qual são apresentadas informações de execução dos diagramas, mensagens de erro etc.;
  - (d) **Biblioteca**, parte direita, na qual são listados todos os blocos funcionais disponíveis no GRC para o projeto de diagramas.
3. Clique duas vezes no bloco **Options** para editar seus parâmetros. Edite-os, conforme a Figura 3;
  4. De modo similar, edite os parâmetros do bloco **Variable**, fazendo o campo **Value** igual a 8000. Esta variável será usada em outros blocos e define a taxa de amostragem adotada em todo o sistema;

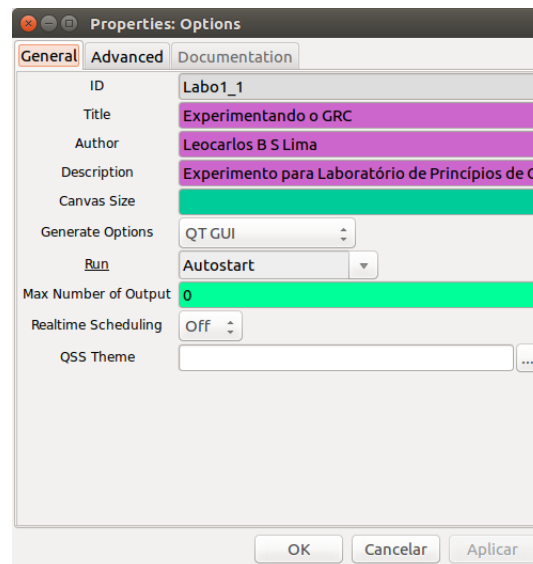


Figura 3: Janela de edição de parâmetros do bloco **Options**.

5. Tecle **Ctrl + F**. Surgirá um campo de busca sobre a Biblioteca do GRC, que permitirá localizar rapidamente blocos. Digite **Signal Source**. Deverá surgir na Biblioteca um bloco com este nome. Clique duas vezes sobre este item (ou clique no item e o arraste para o Espaço de Trabalho). Isso inserirá um bloco **Signal Source** no Espaço de Trabalho. Posicione-o, conforme a Figura 4.

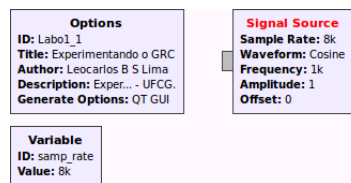


Figura 4: Diagrama de blocos, com inclusão do bloco **Signal Source**.

6. Edite os parâmetros deste bloco, alterando-os para:
  - **Output Type:** Float;
  - **Waveform:** Sine;
  - **Frequency:** 125;
  - **Amplitude:** 1.0;
7. De modo similar, introduza no diagrama mais dois blocos: **Throttle** e **QT GUI Time Sink**. O primeiro limita o processamento interno do sistema ao número de amostras por segundo definido pela taxa de amostragem, evitando sobrecarregar o processador. Este bloco deve, de modo geral, ser usado em todos os diagramas. O segundo apresenta o gráfico no tempo do sinal aplicado à sua entrada;
8. Edite os parâmetros de ambos os blocos, fazendo o campo **Output Type** igual a **Float**. Edite ainda os seguintes campos do bloco **QT GUI Time Sink**:
  - **Grid:** Yes;
  - **Autoscale:** Yes;

9. Posicione os blocos no diagrama, conforme a Figura 5. Passando o ponteiro do mouse sobre os “conectores” dos blocos, pode-se identificar quais são de entrada (in) e quais são de saída (out). Para conectar dois blocos, basta clicar no conector de um bloco e, logo em seguida, no conector do outro bloco. Só podem ser conectados conector de entrada com conector de saída. Uma mesma saída pode ser conectada a mais de uma entrada;

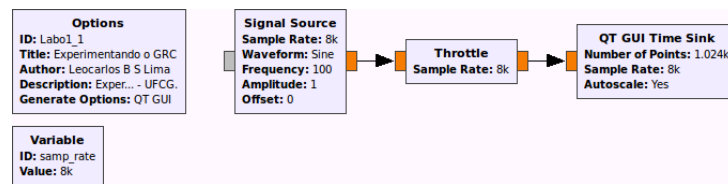


Figura 5: Diagrama de blocos, com inclusão e interligação dos blocos **Throttle** e **QT GUI Time Sink**.

10. Para executar o diagrama projetado, tecla **F6**. O gráfico da senoide gerada deverá ser apresentado;
11. Responda às questões propostas na Folha de Respostas.

## 4.2 Experimento 2 – Séries de Fourier

Os objetivos deste experimento é produzir uma versão aproximada de um sinal a partir das componentes de sua série trigonométrica de Fourier.

1. Execute o software GRC e abra o arquivo **Labo1-2.grc** disponibilizado pelo professor. A Figura 6 ilustra o diagrama deste experimento. Ele consiste na simples adição de três componentes de frequência (senoides) que, tendo suas amplitudes, fases e frequências corretamente ajustadas em conformidade com uma série de Fourier trigonométrica de um sinal, deve resultar numa aproximação deste sinal;

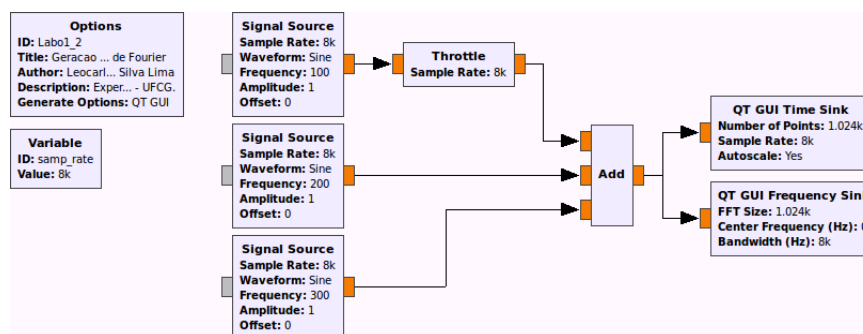


Figura 6: Diagrama de blocos para geração aproximada de sinais comuns a partir de suas séries trigonométrica de Fourier.

2. Execute o diagrama e responda às questões propostas na Folha de Respostas.

## 4.3 Experimento 3 – Distorção

O objetivo deste experimento é caracterizar uma distorção de amplitude e de fase sofrida por um sinal.

1. Execute o software GRC e abra o arquivo **Labo1-3.grc** disponibilizado pelo professor. A Figura 7 ilustra o diagrama deste experimento. Ele consiste numa simulação de um canal distorcivo discreto, composto por blocos **Multiply Const** e **Delay**, que atenuam e atrasam três componentes individuais de um sinal, permitindo comparar os gráficos temporais dos sinais na entrada e na saída do canal distorcivo;

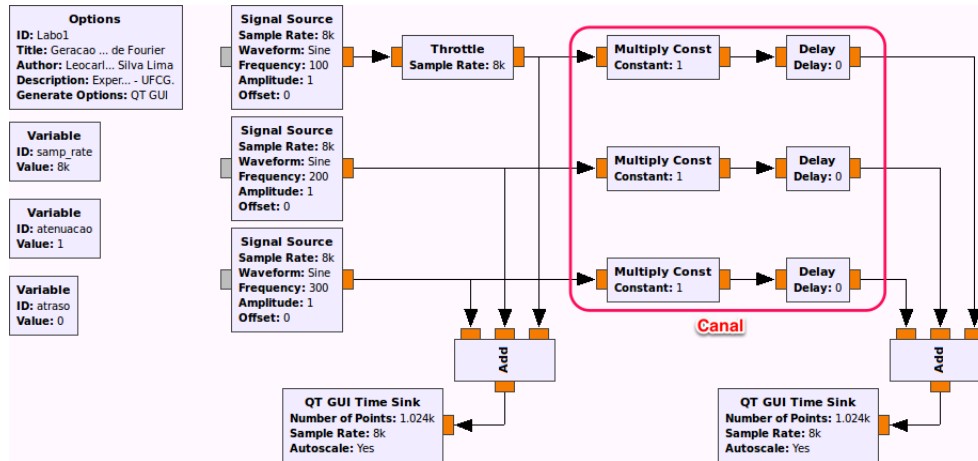


Figura 7: Diagrama de blocos para análise do efeito de distorção de amplitude e fase em sinais.

2. Ajuste frequência, amplitude e fase (seno ou cosseno) das três senoides de entrada, de modo a gerar o sinal de onda triangular  $g_t(t)$ , cuja série trigonométrica de Fourier foi calculada na etapa de preparação;
3. Ajuste os valores dos parâmetros **atenuacao** e **atraso** nos blocos **Variable**, à esquerda do diagrama, com valores de atenuação e atraso (em número de amostras) de canal desejados, começando com os valores 1 e 0, respectivamente.
4. Execute o diagrama e responda às questões propostas na Folha de Respostas.



Universidade Federal de Campina Grande – UFCG  
Unidade Acadêmica de Engenharia Elétrica – UAEE  
Curso de Graduação em Engenharia Elétrica



### Laboratório de Princípios de Comunicações

Período 2017.2

#### Guia de Experimentos 1 – Folha de Respostas

Tema(s): Introdução ao GNU Radio. Séries de Fourier. Distorção.

Professor(es): Leocarlos B. S. Lima e Edmar C. Gurjão

**Aluno:** \_\_\_\_\_ **Data:** \_\_\_\_\_

---

1. **Exp. 1**  $\Rightarrow$  Por inspeção do gráfico, informe o período da senoide gerada? Você pode aplicar um “zoom” no gráfico para melhorar a visualização.

\_\_\_\_\_

2. **Exp. 1**  $\Rightarrow$  Altere a frequência do **Signal Source** para 4,5 kHz, execute o experimento e observe o que ocorreu com a forma de onda. Repita isso alterando a frequência para 3,5 kHz, 7,0 kHz e 1,0 kHz. Quais conclusões podem ser tomadas?

\_\_\_\_\_

\_\_\_\_\_

\_\_\_\_\_

3. **Exp. 2**  $\Rightarrow$  Ajuste frequência, amplitude e fase (seno ou cosseno) dessas três senoides conforme séries de Fourier calculadas na etapa de preparação.

(a) Para a onda quadrada  $g_q(t)$ , identifique (e informe abaixo) por inspeção no gráfico de tempo a amplitude e o período da forma de onda. Identifique também (e informe abaixo) por inspeção no gráfico de frequência as componentes (frequências e amplitudes em dB) do sinal.

\_\_\_\_\_

\_\_\_\_\_

(b) Faça o mesmo para a onda triangular  $g_t(t)$ .

\_\_\_\_\_

\_\_\_\_\_

(c) Faça o mesmo para a onda dente de serra  $g_d(t)$ .

\_\_\_\_\_

\_\_\_\_\_

4. **Exp. 2**  $\Rightarrow$  Por que a onda triangular gerada se assemelha mais à forma de onda original do que as outras duas?

\_\_\_\_\_

\_\_\_\_\_

5. **Exp. 3**  $\Rightarrow$  Observe que os sinais de entrada e saída do canal são idênticos. Esse seria um canal ideal, que sequer atenua ou atrasa o sinal transmitido.

(a) Ajuste a variável **atenuacao** para 0.5 e execute o experimento. Houve distorção? Explique o que ocorreu.

---

---

(b) Ajuste a variável **atraso** para 4, que corresponde a 0,5 ms (por quê?), e execute o experimento. Houve distorção? Explique o que ocorreu.

---

---

6. **Exp. 3**  $\Rightarrow$  Retorne os valores iniciais das variáveis **atenuacao** e **atraso** (1 e 0 respectivamente). Observe nos parâmetros dos blocos **Multiply Const** e **Delay** que seus valores são sempre iguais, definidos pelas variáveis **atenuacao** e **atraso**. Ajuste apenas o bloco **Multiply Const** de uma das componentes do sinal para **atenuacao/2.0** e execute o experimento. Houve distorção? Explique o que ocorreu.

---

---

7. **Exp. 3**  $\Rightarrow$  Retorne os valores iniciais das variáveis **atenuacao** e **atraso** (1 e 0 respectivamente). Ajuste apenas o bloco **Delay** de uma das componentes do sinal para **atraso+4** e execute o experimento. Houve distorção? Explique o que ocorreu.

---

---

8. **Exp. 3**  $\Rightarrow$  Retorne os valores iniciais das variáveis **atenuacao** e **atraso** (1 e 0 respectivamente). Troque em todos os blocos **Signal Source** o parâmetro **Waveform**: de Cosine para Sine e execute o experimento. Houve distorção? Explique o que ocorreu.

---

---

---

---